

1 Σώμα βρίσκεται στην άκρη της οριζόντιας επιφάνειας ενός τραπεζιού σε ύψος h . Την χρονική στιγμή $t = 0$ δίνουμε στο σώμα οριζόντια ταχύτητα u_0 και αυτό εκτελεί οριζόντια βολή. Το σώμα φτάνει στο έδαφος την χρονική στιγμή $t_1 = 0,4s$ έχοντας μετατοπιστεί οριζόντια κατά $s_{\max} = 4m$. Δίνεται ότι η επιτάχυνση της βαρύτητας είναι $g = 10 \frac{m^2}{s}$ και η αντίσταση από τον αέρα θεωρείται αμελητέα.

4.1. Να υπολογίσετε το ύψος h του τραπεζιού.

Μονάδες 6

4.2. Να υπολογίσετε την αρχική ταχύτητα u_0 με την οποία εκτοξεύτηκε το σώμα.

Μονάδες 6

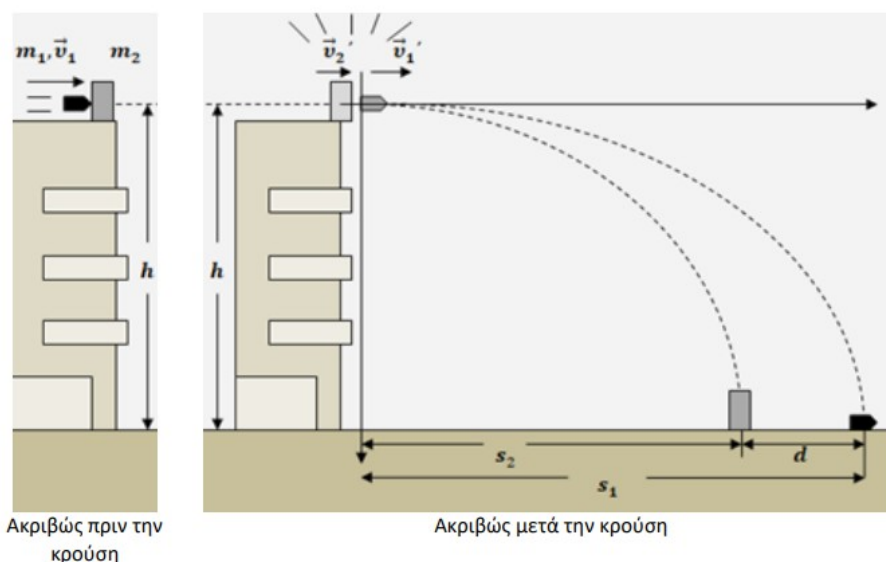
4.3. Εξετάστε αν σε κάποιο σημείο της τροχιάς της κίνησης του σώματος, εκτός από το σημείο εκτόξευσης, η οριζόντια και η κατακόρυφη θέση του σώματος έχουν το ίδιο μέτρο.

Μονάδες 6

4.4. Να υπολογίσετε το ύψος στο οποίο βρίσκεται το σώμα, τη χρονική στιγμή που η οριζόντια συνιστώσα της ταχύτητάς του έχει πενταπλάσιο μέτρο από την κατακόρυφη συνιστώσα της ταχύτητας.

21421

2 Ένα μικρό βλήμα, μάζας $m_1 = 50 g$, το οποίο κινείται οριζόντια με ταχύτητα μέτρου $v_1 = 84 \frac{m}{s}$, συγκρούεται με ένα μικρό κιβώτιο, μάζας $m_2 = 200 g$, το οποίο είναι αρχικά ακίνητο στην άκρη της ταράτσας ενός ψηλού κτιρίου, όπως φαίνεται στο σχήμα. Το βλήμα διαπερνά το κιβώτιο, με μια κρούση ασήμαντης διάρκειας, βγαίνει από αυτό με οριζόντια ταχύτητα \vec{v}_1' , ενώ το κιβώτιο έχει αποκτήσει και αυτό οριζόντια ταχύτητα \vec{v}_2' . Τα δύο σώματα έχουν ασήμαντες διαστάσεις σε σχέση με το χώρο στον οποίο κινούνται, ώστε να μπορούν να θεωρηθούν σημειακά αντικείμενα. Το σημείο της κρούσης είναι σε ύψος $h = 20 m$ από το οριζόντιο έδαφος στη βάση του κτιρίου και οι αντιστάσεις του αέρα μπορούν να αγνοηθούν στις κινήσεις των δύο σωμάτων. Τα δύο σώματα εκτελούν οριζόντιες βολές και κτυπούν στο έδαφος σε σημεία που απέχουν μεταξύ τους $d = 8 m$, όπως φαίνεται στο σχήμα.



Το μέτρο της επιτάχυνσης βαρύτητας θεωρείται $g = 10 \frac{m}{s^2}$. Να υπολογίσετε:

4.1. Τη χρονική διάρκεια της οριζόντιας βολής κάθε σώματος, από τη στιγμή της κρούσης, μέχρι να κτυπήσει στο έδαφος.

4.2. Τα μέτρα των ταχυτήτων v_1', v_2' των δύο σωμάτων αμέσως μετά την κρούση.

4.3. Το μέτρο της μεταβολής της ορμής κάθε σώματος εξαιτίας της κρούσης.

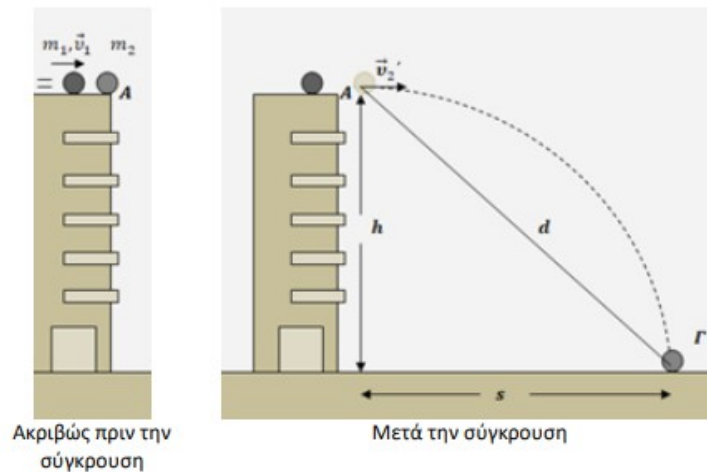
4.4. Τις οριζόντιες αποστάσεις s_1, s_2 στις οποίες έφτασαν τα δύο σώματα πάνω στο έδαφος.

21972

3

Μια μικρή σφαίρα (2), μάζας m_2 , είναι ακίνητη στο άκρο της ταράτσας ενός ψηλού κτιρίου (σημείο A), σε ύψος $h = 20 \text{ m}$ από το οριζόντιο έδαφος. Δεύτερη μικρή σφαίρα (1), μάζας m_1 , κινείται ευθύγραμμα ολισθαίνοντας στο παγωμένο δάπεδο της ταράτσας, το οποίο είναι εντελώς λείο, με ταχύτητα \vec{v}_1 , μέτρου $v_1 = 15 \frac{\text{m}}{\text{s}}$ και συγκρούεται μετωπικά με την ακίνητη σφαίρα (2).

Μετά τη σύγκρουση η σφαίρα (2) εκτελεί οριζόντια βολή και χτυπάει στο έδαφος σε σημείο Γ, το οποίο απέχει από το A απόσταση $(AG) = d = 25 \text{ m}$.



Αν δίνεται ότι για τις μάζες των δύο σφαιρών ισχύει η σχέση $m_2 = 2 \cdot m_1$ και το μέτρο της επιτάχυνσης βαρύτητας δίνεται $g = 10 \frac{\text{m}}{\text{s}^2}$, να υπολογίσετε:

4.1. Τη χρονική διάρκεια της οριζόντιας βολής της σφαίρας (2), από το σημείο A μέχρι να χτυπήσει στο έδαφος, στο σημείο Γ.

Μονάδες 6

4.2. Το μέτρο της οριζόντιας ταχύτητας \vec{v}_2' που απέκτησε η σφαίρα (2) αμέσως μετά τη κρούση της σφαίρας (1) πάνω της.

Μονάδες 7

4.3. Την ταχύτητα της σφαίρας (1) αμέσως μετά την κρούση.

Μονάδες 6

4.4. Το ποσοστό της κινητικής ενέργειας που είχε η σφαίρα (1) πριν την κρούση, το οποίο μετατράπηκε σε θερμική ενέργεια κατά την κρούση των δύο σφαιρών.

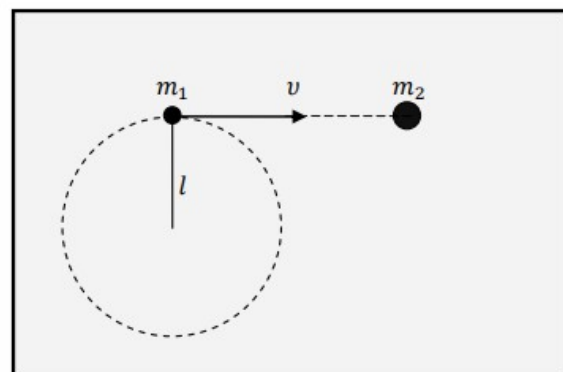
21971

4

Ένα σώμα, μάζας $m_1 = 0,2 \text{ kg}$ είναι δεμένο στο άκρο νήματος του οποίου το άλλο άκρο είναι στερεωμένο σε σταθερό σημείο, εκτελεί κυκλική κίνηση πάνω σε λείο οριζόντιο τραπέζι (κάτοψη του οποίου βλέπετε στο διπλανό σχήμα).

Το μήκος του νήματος είναι $l = 0,5 \text{ m}$ και η γραμμική ταχύτητα του σώματος έχει σταθερό μέτρο $v = 10 \text{ m/s}$.

4.1. Να βρεθούν η γωνιακή ταχύτητα ω , η περίοδος T και η κεντρομόλος επιτάχυνση a_k του σώματος.



Κάποια στιγμή το νήμα κόβεται και το σώμα κινείται ευθύγραμμα. Στην πορεία του συναντάει δεύτερο ακίνητο σώμα από πλαστελίνη μάζας $m_2 = 0,8 \text{ kg}$ και συγκρούεται με αυτό πλαστικά.


4.2. Να υπολογιστεί το ποσοστό της κινητικής ενέργειας του σώματος μάζας m_1 το οποίο έχει μεταφερθεί στο συσσωμάτωμα.

Το συσσωμάτωμα, φθάνει στην άκρη του τραπέζιου και εκτελεί οριζόντια βολή.

Η μέγιστη οριζόντια μετατόπιση του συσσωματώματος από το σημείο από το οποίο βάλλεται είναι $s = 0,8 \text{ m}$.

4.3. Να βρεθεί το ύψος του τραπεζιού.

Μονάδες 6



4.4. Να βρεθεί η χρονική στιγμή t_1 κατά την οποία η ταχύτητα του συσσωματώματος είναι $v_\sigma = \sqrt{2} \cdot V$, όπου V η ταχύτητα με την οποία εγκαταλείπει το τραπέζι το συσσωμάτωμα.

Μονάδες 7

Δίνεται η επιτάχυνση της βαρύτητας $g = 10 \text{ m/s}^2$. Αγνοήστε τριβές και την αντίσταση του αέρα.

21992

5 Ένα μικρό σώμα, εκτελεί ομαλή κυκλική κίνηση, πάνω σε ένα λείο τραπέζι, δεμένο στο άκρο νήματος, έχοντας γραμμική ταχύτητα μέτρου $v = 20 \frac{\text{m}}{\text{s}}$. Αν το σώμα έχει μάζα $m_1 = 0,1 \text{ Kg}$, και το μήκος του νήματος είναι ίσο με $\ell = \frac{1}{\pi} \text{ m}$, να προσδιορίσετε:

4.1. την περίοδο, τη συχνότητα και τη γωνιακή ταχύτητα της κυκλικής τροχιάς του σώματος,

Μονάδες 6

4.2. το μέτρο της κεντρομόλου επιτάχυνσης του σώματος και της κεντρομόλου δύναμης που δέχεται.

Μονάδες 6

4.3. Όταν το σώμα εκτελεί μία πλήρη περιστροφή το νήμα κόβεται και αυτό κινείται ευθύγραμμα πάνω στο λείο τραπέζι. Στην πορεία του συναντά ένα δεύτερο, ακίνητο σώμα μάζας $m_2 = 0,9 \text{ Kg}$, με το οποίο συγκρούεται πλαστικά. Να προσδιορίσετε το μέτρο της ταχύτητας του συσσωματώματος.

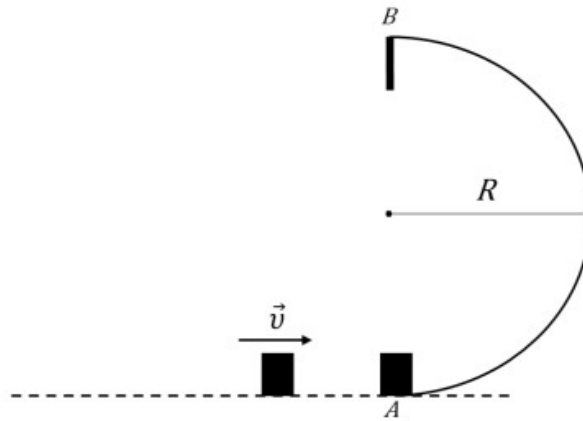
Μονάδες 6

4.4. Να προσδιορίσετε το μέτρο της μεταβολής της ορμής και τη μεταβολή της κινητικής ενέργειας του πρώτου σώματος, εξαιτίας της κρούσης του με το δεύτερο σώμα μάζας m_2 .

20113

6

Επάνω σε λείο οριζόντιο επίπεδο, η κάτοψη του οποίου φαίνεται στο σχήμα, υπάρχει ακλόνητα στερεωμένο ένα σιδερένιο έλασμα, ημικυκλικού σχήματος και ακτίνας $R = 20 \text{ cm}$. Στο ένα άκρο του ελάσματος (σημείο A) είναι τοποθετημένο, ακίνητο σώμα μάζας $M = 1 \text{ kg}$. Ένα δεύτερο σώμα μάζας $m = 1 \text{ kg}$ κινείται με ταχύτητα $v = 20 \text{ m/s}$, κατά τη διεύθυνση που φαίνεται στο σχήμα και συγκρούεται με το σώμα μάζας M . Η κρούση είναι πλαστική. Το συσσωμάτωμα που δημιουργείται μετά την κρούση κινείται κυκλικά, λόγω του ελάσματος, χωρίς να χάνει την επαφή του με αυτό, με ταχύτητα σταθερού μέτρου.



Να υπολογίσετε:

4.1. Την ταχύτητα του συσσωματώματος αμέσως μετά την κρούση.

Μονάδες 7

4.2. Το μέτρο της δύναμης που δέχεται το συσσωμάτωμα από το έλασμα κατά τη διάρκεια της κυκλικής του κίνησης.

Μονάδες 7

4.3. Την χρονική διάρκεια της κίνησης του συσσωματώματος από το σημείο A μέχρι το σημείο B .

Μονάδες 6

4.4. Στο σημείο B το συσσωμάτωμα προσκρούει σε ακλόνητο στήριγμα και το χρονικό διάστημα για να ακινητοποιηθεί είναι $\Delta t = 0,1 \text{ sec}$. Να υπολογίσετε το μέτρο της μέσης δύναμης που ασκήθηκε από το ακλόνητο στήριγμα στο συσσωμάτωμα.

21888

7

Βλήμα μάζας $m = 0,02 \text{ Kg}$ κινείται οριζόντια με ταχύτητα $v = 200 \frac{\text{m}}{\text{s}}$ και σφηνώνεται σε ξύλινο στόχο μάζας $M = 0,98 \text{ Kg}$, που βρίσκεται ακίνητος πάνω σε λείο τραπέζι, σε ύψος $H = 1,25 \text{ m}$, από οριζόντιο δάπεδο. Να βρεθεί:

4.1. η ταχύτητα του συσσωματώματος, αμέσως, μετά την κρούση,

Μονάδες 6

4.2. η μεταβολή της ορμής του βλήματος, κατά τη διάρκεια της ενσφήνωσης,

Μονάδες 6

4.3. το μέτρο της δύναμης που ασκεί ο ξύλινος στόχος στο βλήμα, αν γνωρίζετε ότι η κρούση διαρκεί $0,01 \text{ s}$.

Μονάδες 7

4.4. Κάποια στιγμή το συσσωμάτωμα ξεπερνά την άκρη του τραπεζιού. Να προσδιορίσετε το χρόνο που απαιτείται για να φτάσει το συσσωμάτωμα στο δάπεδο, καθώς και τη μέγιστη οριζόντια απομάκρυνσή του (οριζόντιο βεληνεκές).

20112

8

Δύο σώματα με μάζες $m_1 = 6 \text{ kg}$ και $m_2 = 4 \text{ kg}$ κινούνται σε οριζόντιο δάπεδο με αντίθετη φορά και συγκρούονται πλαστικά. Τη στιγμή της σύγκρουσης τα μέτρα των ταχυτήτων των σωμάτων ήταν $v_1 = 20 \text{ m/s}$ και $v_2 = 10 \text{ m/s}$.

4.1. Να βρεθεί η ταχύτητα του συσσωματώματος αμέσως μετά την κρούση.

Μονάδες 5

4.2. Να βρεθεί η απώλεια της μηχανικής ενέργειας του συστήματος των δύο σωμάτων κατά την πλαστική κρούση.

Μονάδες 5

4.3. Αν η χρονική διάρκεια της κρούσης είναι $\Delta t = 0,1 \text{ s}$, να βρεθεί το μέτρο της μέσης δύναμης που ασκεί το ένα σώμα στο άλλο.

Μονάδες 7

4.4. Να βρεθεί σε πόση απόσταση από το σημείο της κρούσης, θα ακινητοποιηθεί το συσσωμάτωμα μετά την κρούση αν ο συντελεστής τριβής μεταξύ συσσωματώματος και δαπέδου είναι $\mu = 0,32$.

Να θεωρήσετε ότι κατά τη διάρκεια της κρούσης η μετατόπιση του συσσωματώματος είναι αμελητέα.

16856

9

Μπαλάκι του τένις, μάζας m , αφήνεται να πέσει από ύψος h_1 από την επιφάνεια του εδάφους. Αφού χτυπήσει στο έδαφος αναπηδά και φτάνει σε ύψος h_2 από την επιφάνεια του εδάφους. Να υπολογίσετε :

4.1. το μέτρο της ταχύτητας που έχει το μπαλάκι ακριβώς πριν προσκρούσει στο έδαφος,

Μονάδες 5

4.2. τη μεταβολή της ορμής (μέτρο και κατεύθυνση) κατά τη διάρκεια της αναπήδησής του στο έδαφος.

Μονάδες 7

4.3. Αν η μέση συνισταμένη δύναμη που ασκείται στο μπαλάκι κατά τη διάρκεια της πρόσκρουσης έχει μέτρο 6 N να υπολογιστεί η χρονική διάρκεια της πρόσκρουσης.

Μονάδες 6

Στη συνέχεια το μπαλάκι αναπηδά στο έδαφος για δεύτερη φορά.

4.4. Εάν γνωρίζετε ότι κατά τη διάρκεια της δεύτερης αυτής πρόσκρουσης χάνεται στο περιβάλλον το 50% της ενέργειας που είχε το μπαλάκι πριν την πρόσκρουση, να υπολογίσετε το νέο μέγιστο ύψος από το έδαφος, h_3 , στο οποίο θα ανέβει.

Μονάδες 7

Δίνεται η επιτάχυνση της βαρύτητας στην επιφάνεια της Γης $g = 10 \text{ m/s}^2$, $m = 100 \text{ g}$, $h_1 = 80 \text{ cm}$, $h_2 = 20 \text{ cm}$. Η αντίσταση του αέρα θεωρείται αμελητέα.

16040

10

Δύο σώματα με την ίδια μάζα $m = 0,2 \text{ kg}$, κινούνται ευθύγραμμα και ομαλά σε λείο οριζόντιο επίπεδο σε αντίθετες κατευθύνσεις (το ένα κινείται με κατεύθυνση προς το άλλο). Το μέτρο της ταχύτητας του πρώτου σώματος είναι $v_1 = 6 \frac{\text{m}}{\text{s}}$ και του δεύτερου $v_2 = 2 \frac{\text{m}}{\text{s}}$. Τη χρονική στιγμή $t = 0 \text{ s}$ απέχουν μεταξύ τους 4 m .

4.1. Υπολογίστε και σχεδιάστε τις ορμές των δύο σωμάτων τη χρονική στιγμή $t = 0 \text{ s}$.

4.2. Ποια χρονική στιγμή θα συγκρουστούν τα δύο σώματα μεταξύ τους;

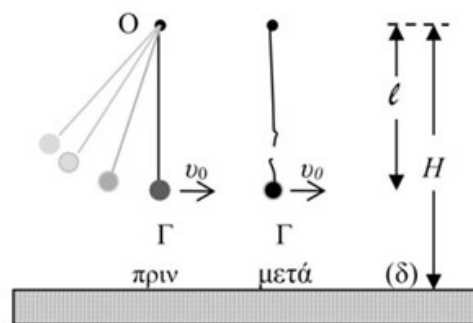
4.3. Αν η κρούση τους είναι πλαστική και η χρονική της διάρκεια είναι αμελητέα, ποιο θα είναι το μέτρο της ταχύτητας του συσσωματώματος αμέσως μετά την κρούση;

Μονάδες 6

4.4. Σχεδιάστε (σε κοινό διάγραμμα) τις γραφικές παραστάσεις για τις τιμές των ταχυτήτων των δύο σωμάτων και του συσσωματώματος σε συνάρτηση με το χρόνο, για το χρονικό διάστημα από 0 μέχρι 1 s. Να θεωρήσετε ως θετική την αρχική φορά κίνησης του σώματος με ταχύτητα v_1 .

16050

11 Μικρή σφαίρα μάζας $m = 200 \text{ g}$ κρέμεται δεμένη στο κάτω άκρο αβαρούς μη ελαστικού νήματος, μήκους l . Το πάνω άκρο του νήματος είναι δεμένο σε ακλόνητο σημείο O, το οποίο απέχει από οριζόντιο δάπεδο (δ), ύψος $H = 1,25 \text{ m}$. Θέτουμε το σύστημα σε αιώρηση με τέτοιο τρόπο ώστε τελικά το σώμα να κινείται σε κατακόρυφο επίπεδο με το νήμα τεντωμένο.



Τη στιγμή που η σφαίρα περνάει από την κατώτερη θέση Γ της κυκλικής τροχιάς της, με το νήμα τεντωμένο και κατακόρυφο, η κεντρομόλος επιτάχυνσή της έχει μέτρο $20 \frac{m}{s^2}$. Ακριβώς τη στιγμή που διέρχεται από τη θέση Γ, το νήμα κόβεται και η σφαίρα με την ταχύτητα που είχε, πραγματοποιεί οριζόντια βολή μέχρι να χτυπήσει στο οριζόντιο δάπεδο. Η σφαίρα φτάνει στο δάπεδο μετά από χρόνο $0,3 \text{ s}$ από τη στιγμή που κόπηκε το νήμα. Δίνεται το μέτρο της επιτάχυνσης της βαρύτητας $g = 10 \frac{m}{s^2}$ και ότι η αντίσταση του αέρα θεωρείται αμελητέα.

Να υπολογίσετε:

4.1. Το μήκος l του νήματος.

Μονάδες 6

4.2. Την οριζόντια απόσταση από το σημείο Γ, του σημείου στο οποίο θα χτυπήσει η σφαίρα στο δάπεδο.

Μονάδες 6

4.3. Τη βαρυτική δυναμική ενέργεια της σφαίρας ως προς το οριζόντιο δάπεδο (δ) μετά από χρόνο $0,2 \text{ s}$ από τη στιγμή που κόπηκε το νήμα.

Μονάδες 6

4.4. Το μέτρο της ταχύτητας καθώς και την εφαπτομένη της γωνίας που σχηματίζει το διάνυσμα της ταχύτητας με το οριζόντιο δάπεδο, ελάχιστα πριν η σφαίρα προσκρούσει στο δάπεδο.

16053

12 Δύο υλικά σημεία, που έχουν ίσες μάζες και φέρουν ηλεκτρικά φορτία $q_1 = +1 \mu\text{C}$ και $q_2 = +2 \mu\text{C}$, συγκρατούνται ακίνητα στο κενό και σε απόσταση $r = 2 \text{ cm}$.

4.1. Να υπολογίσετε την ηλεκτρική δυναμική τους ενέργεια.

Μονάδες 6

Τα υλικά σημεία αφήνονται ελεύθερα να κινηθούν την χρονική στιγμή $t_0 = 0$.

4.2. Αν v_1, v_2 είναι τα αντίστοιχα μέτρα των ταχυτήτων τους, να υπολογίσετε τον λόγο $\frac{v_1}{v_2}$, όταν η απόστασή τους γίνει αρκετά μεγάλη ώστε η μεταξύ τους ηλεκτρική αλληλεπίδραση να θεωρείται ασήμαντη.

4.3. Αν η μάζα κάθε υλικού σημείου είναι $m = 0,1 \text{ kg}$, να υπολογίσετε τα μέτρα v_1 και v_2 των ταχυτήτων του προηγούμενου ερωτήματος.

Μονάδες 7

4.4. Για την χρονική διάρκεια από t_0 μέχρι την χρονική στιγμή που η απόστασή τους γίνει αρκετά μεγάλη, ώστε η μεταξύ τους ηλεκτρική αλληλεπίδραση να θεωρείται ασήμαντη, να υπολογίσετε το έργο της δύναμης που δέχεται το πρώτο υλικό σημείο από το δεύτερο.

Μονάδες 6

Δίνεται: $k_{\eta\lambda} = 9 \cdot 10^9 \frac{\text{N} \cdot \text{m}^2}{\text{C}^2}$. Να θεωρήσετε αμελητέα την βαρυτική αλληλεπίδραση των υλικών σημείων τόσο μεταξύ τους όσο και με άλλα σώματα.

15895

13 Δύο σημειακά φορτία $q_1 = q_2 = + 1 \mu\text{C}$ συγκρατούνται σε σημεία Α και Β αντίστοιχα, στον αέρα και σε απόσταση $r = 10 \text{ cm}$.

4.1. Να υπολογίσετε την ηλεκτρική δυναμική ενέργεια του συστήματος των σημειακών φορτίων.

Μονάδες 6

4.2. Να υπολογίσετε το δυναμικό του ηλεκτρικού πεδίου που δημιουργούν τα φορτία q_1 και q_2 στο μέσο Μ της απόστασης των σημείων Α και Β.

Μονάδες 6

4.3. Να υπολογίσετε το έργο της δύναμης που πεδίου κατά τη μεταφορά σημειακού φορτίου $q = - 1 \mu\text{C}$ από το σημείο Μ στο άπειρο (∞), δηλαδή σε θέση όπου η δύναμη του πεδίου μηδενίζεται.

Μονάδες 6

4.4. Να υπολογίσετε το μέτρο της ταχύτητας με την οποία πρέπει να εκτοξευθεί, από το σημείο Μ, κάθετα στην ΑΒ, σημειακό φορτίο $q = - 1 \mu\text{C}$ και μάζας $m = 72 \text{ mg}$ ώστε μόλις να διαφύγει από το ηλεκτρικό πεδίο που δημιουργούν τα σημειακά φορτία q_1 και q_2 .

Μονάδες 7

Δίνεται $k_{\eta\lambda} = 9 \cdot 10^9 \frac{\text{N} \cdot \text{m}^2}{\text{C}^2}$. Να ληφθούν υπόψη μόνο οι ηλεκτρικές αλληλεπιδράσεις των φορτίων.

15897

14 Σφαιρίδιο μάζας $m_1 = 10^{-9} \text{ Kg}$, φορτισμένο με θετικό φορτίο $q_1 = 10^{-8} \text{ C}$, βάλλεται με αρχική ταχύτητα $v_0 = 40 \frac{\text{m}}{\text{s}}$ προς δεύτερο σφαιρίδιο, που είναι αρχικά ακίνητο σε απόσταση $d = 1 \text{ m}$ από αυτό. Το δεύτερο σφαιρίδιο έχει μάζα $m_2 = 3 \cdot m_1$ και φορτίο $q_2 = q_1$. Τα σφαιρίδια βρίσκονται πάνω σε οριζόντιο, λείο και μονωτικό δάπεδο.

4.1. Να περιγράψετε το είδος της κίνησης που εκτελεί καθένα από τα σφαιρίδια μέχρι να φτάσουν στην ελάχιστη μεταξύ τους απόσταση.

Μονάδες 5

4.2. Να προσδιορίσετε τις ταχύτητες των σφαιριδίων όταν βρίσκονται στην ελάχιστη μεταξύ τους απόσταση.

Μονάδες 6

4.3. Να προσδιορίσετε τη μεταβολή της ορμής για κάθε ένα από τα σωματίδια μέχρι αυτά να φτάσουν στην ελάχιστη απόσταση.

4.4. Ποια είναι η ελάχιστη απόσταση στην οποία πλησιάζουν τα δύο σφαιρίδια;

Μονάδες 8

Δίνεται η σταθερά του νόμου Coulomb: $K_C = 9 \cdot 10^9 \frac{\text{N} \cdot \text{m}^2}{\text{C}^2}$, αγνοούνται άλλες αντιστάσεις στην κίνηση των σφαιριδίων και θεωρούμε θετική την φορά κίνησης του σφαιριδίου μάζας m_1 .

16328

15

Στις κορυφές ενός ισόπλευρου τριγώνου ΑΒΓ πλευράς $a = 0,3 \text{ cm}$, συγκρατούνται αρχικά ακίνητα τρία μικρά σφαιρίδια φορτισμένα με ίσα ηλεκτρικά φορτία $q_1 = q_2 = q_3 = 2 \mu\text{C}$. Στη συνέχεια απομακρύνουμε το φορτίο q_3 από την κορυφή Γ και διατηρούμε τα άλλα δύο στις κορυφές Α και Β δένοντας το κάθε ένα από αυτά στο άκρο αβαρούς και μη ελαστικού νήματος μήκους $L = 0,3 \text{ cm}$. Έτσι τελικά τα φορτία αυτά ισορροπούν σε λείο οριζόντιο δάπεδο σε απόσταση $L = 0,3 \text{ cm}$ μεταξύ τους. Οι μάζες των φορτίων q_1, q_2 είναι $m_1 = 5 \cdot 10^{-5} \text{ Kg}$ και $m_2 = 2 \cdot m_1$, αντίστοιχα. Κάποια στιγμή το νήμα κόβεται και τα δύο σφαιρίδια αρχίζουν να κινούνται λόγω των απωστικών ηλεκτρικών δυνάμεων που αναπτύσσονται μεταξύ τους.

4.1. Να προσδιορίσετε την ενέργεια του αρχικού συστήματος των τριών φορτίων.

Μονάδες 5

4.2. Αν $U_{\alpha\rho\chi}$ και $U_{\tau\epsilon\lambda}$ οι δυναμικές ενέργειες του συστήματος των δύο φορτίων q_1, q_2 όταν αυτά απέχουν μεταξύ τους απόσταση L και $2 \cdot L$ αντίστοιχα, να προσδιορίσετε το λόγο: $\frac{U_{\alpha\rho\chi}}{U_{\tau\epsilon\lambda}}$.

Μονάδες 5

4.3. Να προσδιορίσετε το λόγο των μέτρων των δύο ταχυτήτων $\frac{v_1}{v_2}$ που αποκτούν τα φορτία q_1 και q_2 στην απόσταση $2 \cdot L$.

Μονάδες 7

4.4. Να προσδιορίσετε τα μέτρα των ταχυτήτων v_1 και v_2 .

Μονάδες 8

Δίνεται η σταθερά του νόμου Coulomb: $K_C = 9 \cdot 10^9 \frac{\text{Nm}^2}{\text{C}^2}$, ενώ αγνοούνται όλες οι δυνάμεις που μπορεί να δέχονται τα μικρά σφαιρίδια, εκτός από την ηλεκτρική τους αλληλεπίδραση.

16331

16

Τα σωματίδια Α και Β συγκρατούνται ακίνητα σε λείο οριζόντιο επίπεδο κατασκευασμένο από μονωτικό υλικό, όπως φαίνεται στο σχήμα. Τα σωματίδια έχουν ίσα θετικά φορτία $Q = q$ μάζες m_A και m_B αντίστοιχα, το σύστημα των δύο ηλεκτρικών φορτίων έχει ηλεκτρική δυναμική ενέργεια U και αφήνονται να κινηθούν.



4.1. Να δείξετε ότι ο λόγος των μέτρων των ταχυτήτων που έχουν κάθε χρονική στιγμή τα δύο σωματίδια είναι αντιστρόφως ανάλογος με τον λόγο των μαζών τους.

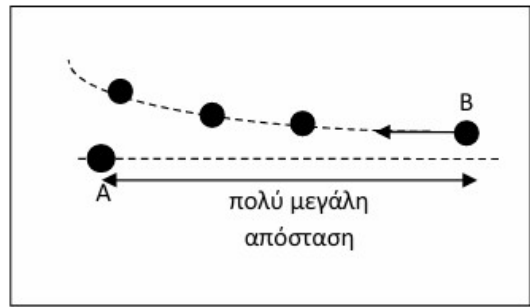
Μονάδες 5

4.2. Να δείξετε ότι η κινητική ενέργεια του Β, σε πολύ μεγάλη απόσταση από το Α (σε απόσταση τόση ώστε τα σωματίδια πρακτικά δεν αλληλεπιδρούν), δίνεται από τη σχέση:

$$K_B = \frac{m_A}{m_A + m_B} U.$$

4.3. Για αυτό το ερώτημα υποθέτουμε πως η μάζα του Α είναι πολύ μεγαλύτερη της μάζας του Β ($m_A \gg m_B$), ώστε στους υπολογισμούς η μάζα του Β να θεωρείται αμελητέα σε σχέση με τη μάζα του Α. Να υπολογίσετε, αξιοποιώντας το αποτέλεσμα του ερωτήματος 4.2. ή με όποιον άλλο τρόπο σκεφτείτε, τις κινητικές ενέργειες των Α και Β όταν βρίσκονται σε πολύ μεγάλη απόσταση μεταξύ τους.

4.4. Όταν το B φθάνει σε μεγάλη απόσταση από το A, το εκτοξεύουμε και πάλι προς τα πίσω, όχι όμως ακριβώς στην ευθεία που ενώνει τα δύο σωματίδια αλλά λίγο έκκεντρα, όπως φαίνεται στο σχήμα που αποτελεί κάτοψη του επιπέδου στο οποίο γίνεται η κίνηση. Εξηγήστε γιατί το B θα ακολουθήσει μια τροχιά όπως αυτή που φαίνεται στο σχήμα. Μπορείτε να χρησιμοποιήσετε κατάλληλο σχήμα.



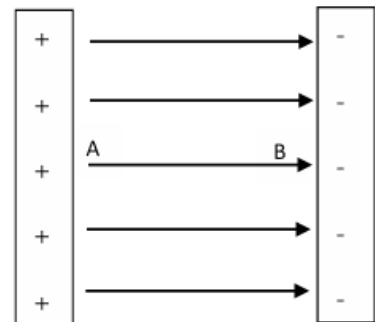
16109

17 Δύο παράλληλες μεταλλικές πλάκες φορτισμένες με αντίθετα φορτία, όπως στο σχήμα, δημιουργούν ανάμεσά τους ομογενές ηλεκτρικό πεδίο.

Η διαφορά δυναμικού των δύο πλακών είναι $V = 1\text{ KV}$ και η απόσταση μεταξύ τους $d = 5\text{ mm}$.

Τη χρονική στιγμή $t_0 = 0$, από το σημείο A του πεδίου, ένα θετικό φορτίο q_1 επιταχύνεται από την ηρεμία χωρίς αντιστάσεις, μόνο με την επίδραση του ηλεκτρικού πεδίου και φτάνει στο σημείο B. Η απόσταση (AB) είναι ίση με $(AB) = d = 5\text{ mm}$.

Γνωρίζετε ότι: το φορτίο του ηλεκτρονίου είναι ίσο με $-e = -1,6 \cdot 10^{-19}\text{ C}$, η μάζα του ίση με $m_e = 9,1 \cdot 10^{-31}\text{ Kg}$ ενώ για το θετικό φορτίο q_1 ισχύει η σχέση $q_1 = e$ και η μάζα του είναι ίση με $m_1 = 2 \cdot m_e$.



4.1. Να προσδιορίσετε την ένταση του ομογενούς ηλεκτρικού πεδίου.

Μονάδες 4

4.2. Αν από το σημείο B, επιταχυνθεί από την ηρεμία ένα ηλεκτρόνιο τότε να βρείτε το λόγο των μέτρων των επιταχύνσεων που αποκτά καθένα από τα σωματίδια.

Μονάδες 8


4.3. Να προσδιορίσετε το μέτρο της επιτάχυνσης που αποκτά το φορτίο q_1 και στη συνέχεια να υπολογίσετε το έργο για τη μετακίνηση του φορτίου q_1 μεταξύ των σημείων A και B. Το αποτέλεσμα για το έργο να δοθεί σε eV .

Μονάδες 5

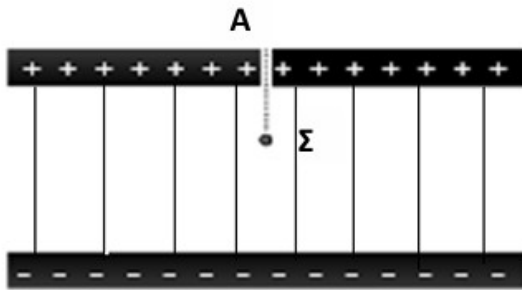
4.4. Να κατασκευάσετε τη γραφική παράσταση της θέσης του φορτίου q_1 σε συνάρτηση με το τετράγωνο του χρόνου ($x - t^2$), ορίζοντας έναν άξονα x' , με $x_0 = 0$ στο σημείο A, δηλαδή στο σημείο στο οποίο αρχίζει να κινείται το φορτίο αυτό.

16329

18 Το πείραμα του Millikan, γνωστό και ως πείραμα της σταγόνας λαδιού, είναι από τα πιο διάσημα πειράματα στην ιστορία της Φυσικής και είχε ως αποτέλεσμα την ακριβή μέτρηση για πρώτη φορά του στοιχειώδους φορτίου (φορτίου του ηλεκτρονίου) το 1909. Η συσκευή με την οποία πραγματοποιήθηκε το πείραμα φαίνεται στη φωτογραφία. Στο κάτω μέρος της συσκευής υπάρχει ομογενές ηλεκτρικό πεδίο (επίπεδος πυκνωτής με τους οπλισμούς - πλάκες



τοποθετημένους οριζόντια). Αρνητικά φορτισμένες σταγόνες λαδιού εισέρχονται από την οπή A που υπάρχει στο θετικό οπλισμό του οριζόντια επίπεδου πυκνωτή. Όλο το σύστημα βρίσκεται σε κενό. Η σταγόνα Σ , με μάζα $m = 0,1 \text{ g}$ και φορτίο $q = 1,5 \times 10^{-8} \text{ C}$, κινείται ήδη εντός του ομογενούς ηλεκτρικού πεδίου του πυκνωτή, που έχει ένταση $E = 60 \text{ kV/m}$. Η απόσταση μεταξύ των οπλισμών του πυκνωτή είναι $d = 10 \text{ mm}$.



4.1. Να σχεδιάσετε τη φορά των δυναμικών γραμμών του ομογενούς ηλεκτρικού πεδίου του πυκνωτή, και να υπολογίσετε την ηλεκτρική δύναμη που δέχεται η σταγόνα Σ .

Μονάδες 5

4.2. Να σχεδιάσετε τις δυνάμεις που δέχεται η σταγόνα, καθώς και την κατεύθυνση της

κίνησής της. Υπολογίστε την επιτάχυνση με την οποία κινείται.

Μονάδες 6

4.3. Να υπολογίσετε το έργο της ηλεκτρικής δύναμης κατά τη μετακίνηση της σταγόνας λαδιού από τον θετικό στον αρνητικό οπλισμό του πυκνωτή.

Μονάδες 6

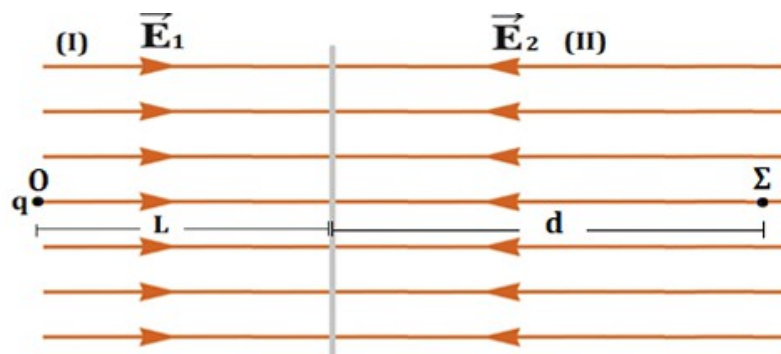
4.4. Να υπολογίσετε τη μεταβολή της κινητικής ενέργειας της σταγόνας κατά την κίνησή της από τον θετικό στον αρνητικό οπλισμό του πυκνωτή.

Μονάδες 8

Δίνεται η επιτάχυνση της βαρύτητας στην επιφάνεια της Γης $g = 10 \text{ m/s}^2$. Η αντίσταση του αέρα είναι αμελητέα.

16108

19



Σωματίδιο μάζας $m = 2 \text{ mg}$ με ηλεκτρικό φορτίο $q = +2 \mu\text{C}$, τη χρονική στιγμή $t_0 = 0$, αφήνεται σε ένα σημείο O της περιοχής (I), στην οποία υπάρχει οριζόντιο ηλεκτροστατικό πεδίο με ένταση μέτρου $E_1 = 1 \text{ V/m}$. Τη χρονική στιγμή $t_1 = 2 \text{ s}$, το σωματίδιο αφού έχει διανύσει απόσταση L μέσα στην περιοχή (I), έχει αποκτήσει ταχύτητα \vec{v}_1 και εισέρχεται αμέσως στην περιοχή (II), στην οποία υπάρχει οριζόντιο ηλεκτροστατικό πεδίο έντασης \vec{E}_2 , αντίθετης κατεύθυνσης από το πεδίο έντασης \vec{E}_1 (όπως φαίνεται στο παραπάνω σχήμα). Το σωματίδιο τη χρονική στιγμή $t_2 = 4 \text{ s}$ βρίσκεται στη θέση Σ , έχοντας διανύσει μια απόσταση d στην περιοχή (II) και έχει ταχύτητα μέτρου $v_2 = 1 \text{ m/s}$.

4.1. Να υπολογίσετε το μέτρο της επιτάχυνσης του σωματιδίου στην περιοχή (I).

Μονάδες 5

4.2. Να υπολογίσετε την απόσταση L και το μέτρο της ταχύτητας v_1 του σωματιδίου τη χρονική στιγμή t_1 .

Μονάδες 6

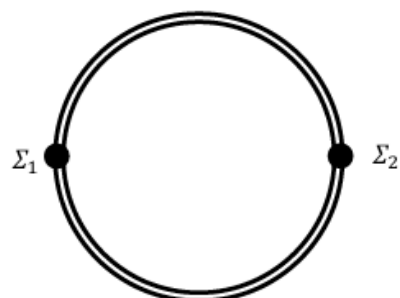
4.3. Να υπολογίσετε το μέτρο της έντασης \vec{E}_2 και την απόσταση d που διανύει το σωματίδιο στην περιοχή (II).

Μονάδες 8

4.4. Αν το δυναμικό του σημείου O είναι $V_O = 10 \text{ V}$ να υπολογίσετε το δυναμικό στο σημείο Σ .

16137

20 Δύο σωματίδια με φορτία $q_1 = q_2 = 10^{-4} \text{ C}$ και μάζες $m_1 = m_2 = m = 1 \text{ g}$ μπορούν να κινούνται στις ράγες μιας κυκλικής διαδρομής ακτίνας $r = 3 \text{ m}$, χωρίς τριβές. Το σύστημα βρίσκεται πάνω σε οριζόντιο μονωτικό επίπεδο μεγάλων διαστάσεων. Την κάτοψη του συστήματος των δύο σωματιδίων με τις ράγες βλέπουμε στο διπλανό σχήμα. Τα σωματίδια βρίσκονται αρχικά ακίνητα σε δύο αντιδιαμετρικές θέσεις της κυκλικής διαδρομής, όπως φαίνεται στο σχήμα.



4.1. Να βρείτε τη δυναμική ενέργεια του συστήματος των δύο σωματιδίων.

Μονάδες 6

4.2. Ο μηχανισμός ο οποίος κρατάει τα σωματίδια στην κυκλική διαδρομή απορρυθμίζεται (την ίδια χρονική στιγμή και για τα δύο) ενώ είναι ακίνητα και τα σωματίδια μπορούν να κινηθούν ελεύθερα. Να βρεθεί το μέτρο της ταχύτητας με την οποία φτάνουν στο άπειρο.

Μονάδες 6

Επαναφέρουμε τα δύο σωματίδια στις αντιδιαμετρικές θέσεις της κυκλικής διαδρομής, ρυθμίζουμε το μηχανισμό που τα κρατά σε αυτή τη διαδρομή και τους δίνουμε ταχύτητες, κατά την διεύθυνση της διαμέτρου, με μέτρο $v_0 = 100 \sqrt{\frac{5}{2}} \frac{\text{m}}{\text{s}}$ και αντίθετες κατευθύνσεις.

4.3. Ποιο είναι το μέτρο της ταχύτητας με την οποία θα φτάσουν στο άπειρο;

Μονάδες 7

4.4. Να βρείτε το μέτρο της δύναμης που πρέπει να ασκείται από τις κυκλικές ράγες στα σωματίδια, ώστε αυτά να εκτελούν ομαλή κυκλική κίνηση με ταχύτητες μέτρου $v_0 = 100 \sqrt{\frac{5}{2}} \frac{\text{m}}{\text{s}}$.

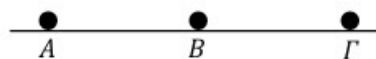
Μονάδες 6

Δίνεται $k_c = 9 \cdot 10^9 \text{ N} \cdot \text{m}^2 / \text{C}^2$. Οι τριβές και η αντίσταση του αέρα θεωρούνται αμελητέες.

17171

Δύο σημειακά φορτισμένα σώματα με φορτία $q_1 = q_2 = 3 \cdot 10^{-4} \text{ C}$

βρίσκονται στις θέσεις A και B , πάνω σε οριζόντιο μονωμένο επίπεδο



μεγάλων διαστάσεων, για τις οποίες ισχύει $AB = 3 \text{ m}$. Η μάζα του σώματος που βρίσκεται στο σημείο A είναι $m = 0,2 \text{ kg}$.

4.1. Να βρείτε τη δυναμική ενέργεια του συστήματος των δύο σωμάτων.

Μονάδες 6

4.2. Να βρεθεί η τιμή του φορτίου q_3 τρίτου σημειακού φορτισμένου σώματος, το οποίο πρέπει να τοποθετηθεί στο σημείο Γ της ευθείας AB , για το οποίο ισχύει $B\Gamma = 3 \text{ m}$, ώστε η ολική δυναμική ενέργεια του συστήματος των τριών σωμάτων να είναι μηδενική.

Μονάδες 6

4.3. Να εξετάσετε αν σε κάποιο από τα φορτία q_1 , q_2 και q_3 η συνισταμένη δύναμη από τα άλλα είναι μηδέν στις θέσεις A , B και Γ αντίστοιχα.

Μονάδες 6

Ακίνητοποιούμε τα φορτία q_2 και q_3 στις θέσεις B και Γ και αφήνουμε το q_1 ελεύθερο να κινηθεί.

4.4. Αφού αιτιολογήσετε γιατί το φορτίο q_1 μπορεί να φτάσει στο άπειρο (δηλαδή σε πολύ μεγάλη απόσταση από τα άλλα δύο φορτία), να βρείτε την ταχύτητά του όταν φτάνει στο άπειρο.

Μονάδες 7

Δίνεται $k_c = 9 \cdot 10^9 \text{ N} \cdot \text{m}^2/\text{C}^2$. Η επίδραση της βαρύτητας, οι τριβές και η αντίσταση του αέρα θεωρούνται αμελητέα.