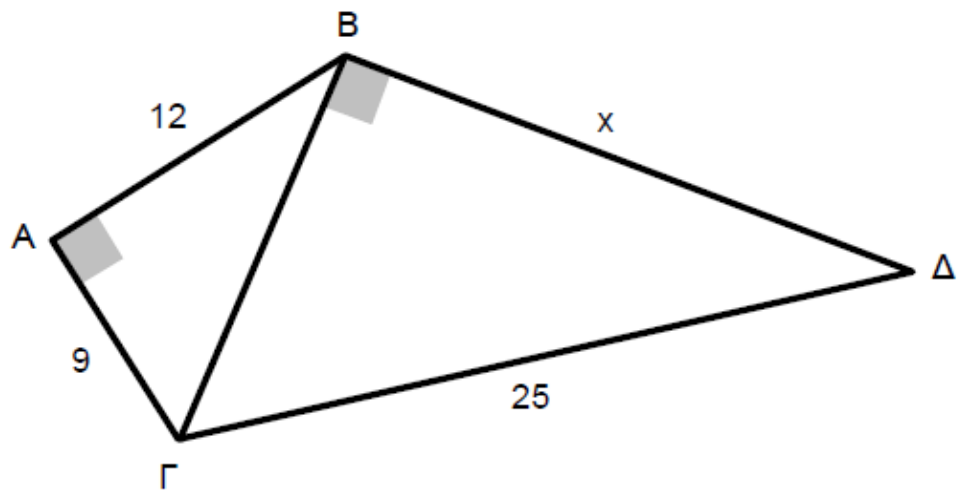
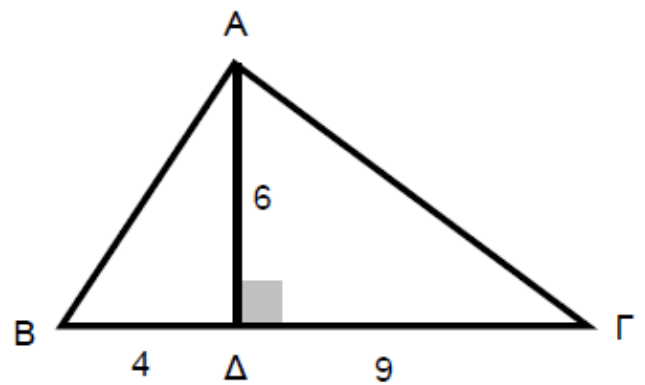
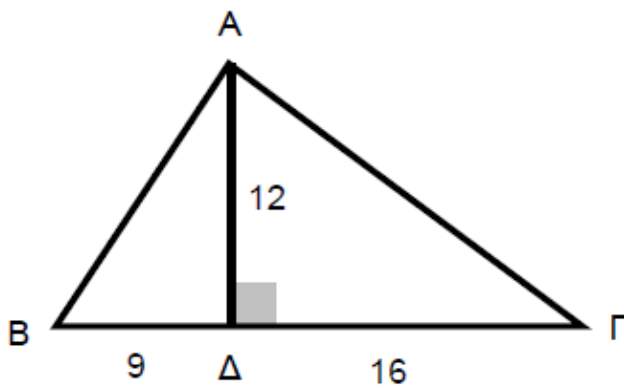


Να υπολογίσετε την πλευρά x στο παρακάτω σχήμα:



13. Να αποδείξετε ότι το τρίγωνο $AB\Gamma$, σε κάθε περίπτωση, είναι ορθογώνιο:



Να βρείτε το εμβαδόν του τραπεζιού $AB\Gamma\Delta$, του παρακάτω σχήματος:

